




NON CAPISCO
PERCHE'
GIULIANA
SI E' ARRABBIATA
E' UN AMORE
E' UN CUCCILO!!



VERAMENTE

L'ORSO SI E' PRESO E
MANGIATO PER 4 GIORNI
LE MIE 9 CELLETTE PIENE
DI MIELE.
QUANTE CELLETTE MI HA
RUBATO?

nome classe data

MOLTIPLICAZIONI... SOTTO IL TENDONE

● Calcola in colonna.

da u da u da u da u

| | | |
|---|---|---|
| 1 | 4 | x |
| | 2 | = |
| 2 | 8 | |

da u da u da u da u

| | | |
|-------|-------|---|
| 3 | 2 | x |
| | 2 | = |
| | | |

da u da u da u da u

| | | |
|-------|-------|---|
| 4 | 1 | x |
| | 2 | = |
| | | |

| | | |
|-------|-------|---|
| 4 | 0 | x |
| | 2 | = |
| | | |

da u da u da u da u

| | | |
|-------|-------|---|
| 3 | 1 | x |
| | 3 | = |
| | | |

| | | |
|-------|-------|---|
| 3 | 0 | x |
| | 2 | = |
| | | |

| | | |
|-------|-------|---|
| 1 | 2 | x |
| | 2 | = |
| | | |

| | | |
|-------|-------|---|
| 3 | 2 | x |
| | 3 | = |
| | | |

da u da u da u da u

| | | |
|-------|-------|---|
| 1 | 1 | x |
| | 5 | = |
| | | |

| | | |
|-------|-------|---|
| 1 | 3 | x |
| | 3 | = |
| | | |

| | | |
|-------|-------|---|
| 3 | 3 | x |
| | 2 | = |
| | | |

| | | |
|-------|-------|---|
| 2 | 4 | x |
| | 2 | = |
| | | |

Obiettivo di apprendimento: applicare la procedura per eseguire moltiplicazioni in colonna.



1 Esegui le addizioni in colonna.

| | | |
|----|---|---|
| da | u | |
| 2 | 5 | + |
| 1 | 3 | = |
| | | |

| | | |
|----|---|---|
| da | u | |
| 5 | 8 | + |
| 1 | 1 | = |
| | | |

| | | |
|----|---|---|
| da | u | |
| 4 | 5 | + |
| 2 | 9 | = |
| | | |

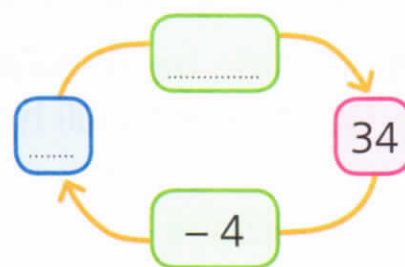
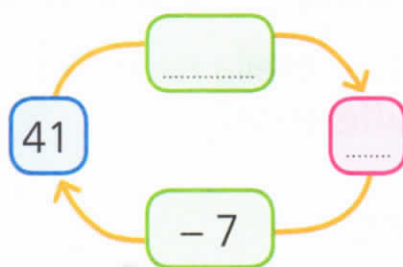
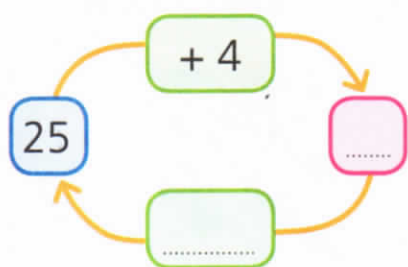
2 Esegui le sottrazioni in colonna.

| | | |
|----|---|---|
| da | u | |
| 3 | 5 | - |
| 1 | 2 | = |
| | | |

| | | |
|----|---|---|
| da | u | |
| 8 | 9 | - |
| 1 | 5 | = |
| | | |

| | | |
|----|---|---|
| da | u | |
| 4 | 3 | - |
| 1 | 9 | = |
| | | |

3 Completa con i risultati e gli operatori.



4 **INVALSI** Osserva l'uguaglianza e rispondi.

$$45 - 24 = 38 - 17$$

- Quello che è scritto nel riquadro è corretto? Sì No
- Perché?
- Perché il risultato della prima sottrazione è uguale al risultato della seconda sottrazione.
- Perché ci sono due numeri a sinistra e due numeri a destra del segno di uguale.
- Perché 38 è il risultato di $45 - 24$.

Fai attenzione al segno delle operazioni.



5 Indica con una **X** se il risultato è **vero (V)** o **falso (F)**.

- | | | | |
|------------------|---|------------------|---|
| • $57 - 11 = 46$ | <input type="checkbox"/> V <input type="checkbox"/> F | • $64 + 11 = 73$ | <input type="checkbox"/> V <input type="checkbox"/> F |
| • $64 - 9 = 55$ | <input type="checkbox"/> V <input type="checkbox"/> F | • $35 - 11 = 46$ | <input type="checkbox"/> V <input type="checkbox"/> F |
| • $46 + 9 = 55$ | <input type="checkbox"/> V <input type="checkbox"/> F | • $81 + 11 = 92$ | <input type="checkbox"/> V <input type="checkbox"/> F |